

### Bayerischer Mathematik-Test für die Jahrgangsstufe 10 der Gymnasien

Name: \_\_\_\_\_

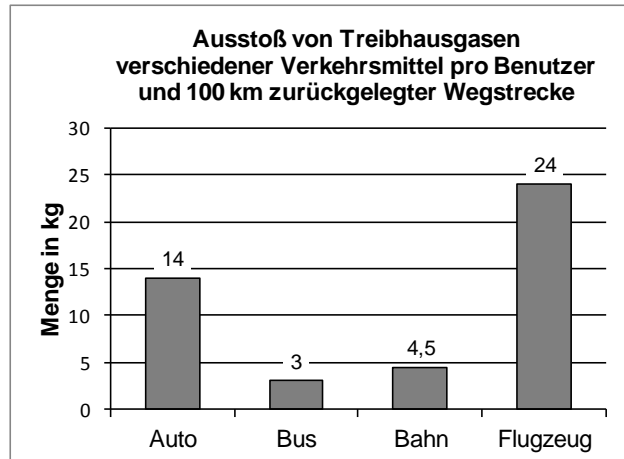
Note: \_\_\_\_\_

Klasse: \_\_\_\_\_

Bewertungseinheiten: \_\_\_\_\_ / 21

#### Aufgabe 1

Verkehrsmittel stoßen weltweit eine große Menge von Treibhausgasen aus. Die Abbildung zeigt für verschiedene Verkehrsmittel, wie viele Kilogramm Treibhausgase durchschnittlich pro Benutzer und 100 km zurückgelegter Wegstrecke ausgestoßen werden.



- a) Ermitteln Sie für das Verkehrsmittel Auto auf der Grundlage der Abbildung, wie viele Kilogramm Treibhausgase pro Benutzer und 400 km zurückgelegter Wegstrecke durchschnittlich ausgestoßen werden.
- b) In der Abbildung ist für das Auto ein größerer Wert angegeben als für den Bus. Machen Sie dies im Sachzusammenhang plausibel.
- c) Bei der Erstellung der Abbildung wurde für das Flugzeug angenommen, dass auf jedem Flug 75 % der verfügbaren Plätze besetzt sind. Bestimmen Sie den Zahlenwert, der in der Abbildung für das Flugzeug angegeben werden müsste, wenn man annehmen würde, dass auf jedem Flug nur 50 % der Plätze besetzt sind.

/ 1

/ 1

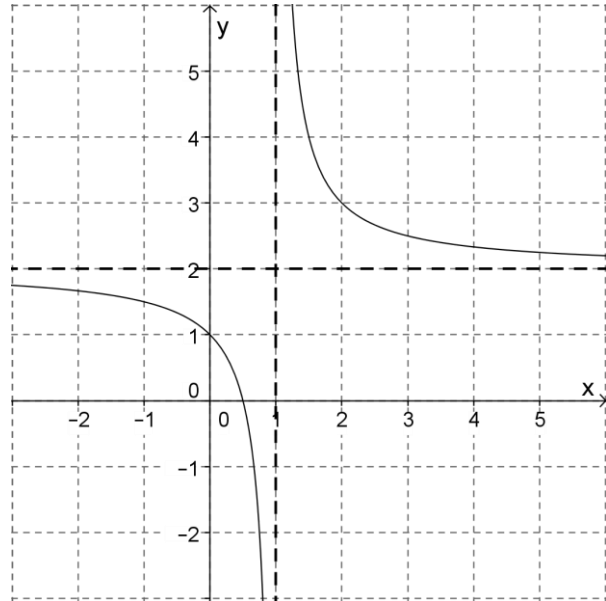
/ 2

**Aufgabe 2**

Die Abbildung zeigt den Graphen einer gebrochen-rationalen Funktion  $f$ , der aus dem Graphen der Funktion  $x \mapsto \frac{1}{x}$  mit Definitionsmenge  $\mathbb{R} \setminus \{0\}$  durch Verschiebungen hervorgeht.

Geben Sie einen passenden Funktionsterm für  $f$  an.

$f(x) =$



/ 2

**Aufgabe 3**

Berechnen Sie jeweils alle Lösungen der Gleichung über der Grundmenge  $\mathbb{R}$ , ohne die Lösungsformel für quadratische Gleichungen zu verwenden.

a)  $(x - 4)^2 = 3$

b)  $3x^2 - 6x = 0$

/ 1

/ 1

**Aufgabe 4**

Wahr oder falsch? Kreuzen Sie an.

Jedes Parallelogramm ist punktsymmetrisch.

wahr falsch

Jedes Parallelogramm ist achsensymmetrisch.

In jedem Parallelogramm sind gegenüberliegende Seiten gleich lang.

In jedem Parallelogramm sind gegenüberliegende Winkel gleich groß.

In jedem Parallelogramm halbieren sich die Diagonalen gegenseitig.

In jedem Parallelogramm stehen die Diagonalen aufeinander senkrecht.

/ 2

**Aufgabe 5**

An der Bliggspitze (3354 m) in den Öztaler Alpen besteht die Gefahr, dass ungefähr vier Millionen Kubikmeter Gestein in Richtung Tal abrutschen. Diese Gesteinsmenge lässt sich durch einen Würfel gleichen Volumens veranschaulichen. Kreuzen Sie denjenigen Wert an, der der Kantenlänge dieses Würfels am nächsten kommt.

- 2000 m     1000 m     500 m     150 m     100 m     20 m

/ 1

**Aufgabe 6**

Maximilian soll für ein Quadrat der Seitenlänge  $a$  einen möglichst einfachen Term für die Länge  $d$  der Diagonale des Quadrats bestimmen. Er rechnet:

$$d = \sqrt{a^2 + a^2} = a + a = 2a$$

Maximilians Mitschülerin Sophie erkennt, dass seine Rechnung einen Fehler enthält.

- a) Ergänzen Sie sinnvoll, was Sophie zu Maximilian sagen könnte:

„Dein Ansatz ist richtig, du hast \_\_\_\_\_  
angewendet. Dein Ergebnis kann aber nicht richtig sein – an einer Zeichnung erkennst  
du doch sofort, dass die Diagonale im Quadrat \_\_\_\_\_  
\_\_\_\_\_.

/ 2

- b) Stellen Sie Maximilians Rechnung richtig, indem Sie den Term für  $d$  korrekt umformen und so weit wie möglich vereinfachen:

$$d = \sqrt{a^2 + a^2} =$$

/ 1

**Aufgabe 7**

Bestimmen Sie für  $\tan 25^\circ$  mithilfe einer beschrifteten Zeichnung sowie geeigneter Messungen einen möglichst genauen Näherungswert. Geben Sie Ihren Näherungswert in dezimaler Schreibweise mit zwei Nachkommastellen an.

/ 2

**Aufgabe 8**


Für ein WM-Endspiel finden in Berlin, Kapstadt und Tokio Public-Viewing-Veranstaltungen statt. Im Internet findet man folgende Vorhersage, die sich auf das Wetter während des Spiels bezieht:



Berlin



Kapstadt



Tokio

Stadt  
Regenwahrscheinlichkeit

60 %

50 %

20 %

Zum Beispiel bedeutet die Angabe „60 %“: Die Wahrscheinlichkeit dafür, dass es während des Spiels in Berlin mindestens einmal regnet (z. B. in Form eines Schauers), beträgt 60 %.

- a) Geben Sie die Wahrscheinlichkeit dafür an, dass es während des Spiels in Tokio nicht regnet.
- b) Berechnen Sie die Wahrscheinlichkeit (in Prozent) dafür, dass es während des Spiels in keiner dieser drei Städte regnet.

/ 1

/ 2

**Aufgabe 9**

Hannah schreibt eine Folge von Gleichungen auf:

$$(1) \quad \frac{1}{1} - \frac{1}{2} = \frac{1}{1 \cdot 2} \quad (2) \quad \frac{1}{2} - \frac{1}{3} = \frac{1}{2 \cdot 3} \quad (3) \quad \frac{1}{3} - \frac{1}{4} = \frac{1}{3 \cdot 4} \quad \dots\dots$$

Stellen Sie unter Verwendung einer Variablen  $n$  eine möglichst einfache Gleichung auf, die für  $n=1$ ,  $n=2$  und  $n=3$  die angegebenen Gleichungen (1), (2) bzw. (3) liefert.

Untersuchen Sie, ob die von Ihnen aufgestellte Gleichung für jede beliebige natürliche Zahl  $n$  ( $n = 1, 2, 3, 4, 5, \dots$ ) richtig ist.

/ 2